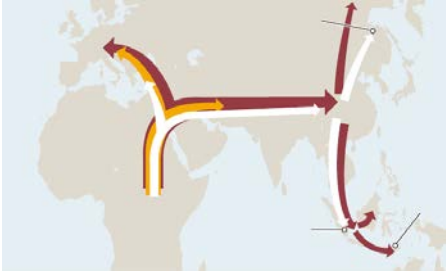
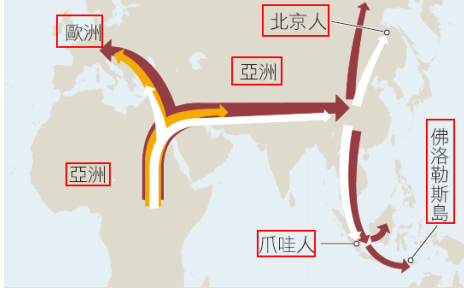




頁碼	位置	原文	修正
126	測試你的了解 9	9. 乙醇發酵的最終電子接受者是 a. 丙酮酸 c. 乳酸 b. NAD ⁺ d. O ₂	9. 乙醇發酵的最終電子接受者是 a. 丙酮酸 c. 乙醇 b. NAD ⁺ d. 乙醛 解答：c
183	第一欄 第 10~11 行	一個纈胺酸 (valine) 被一個麩胺酸 (glutamic acid) 所取代。	纈胺酸 (valine) 取代原有麩胺酸 (glutamic acid)。
286	測試你的了解 8	8. 天擇造成族群中的一個極端表現型 變得更頻繁，此為何者之實例？ a. 分歧性天擇 c. 方向性天擇 b. 穩定性天擇 d. 對等性天擇	解答：c
290	圖 15.3		
292	圖 15.5 圖說	圖 15.5 脊椎動物的支序圖 分支節點之間的衍生特徵是在每個 特徵右側的所有生物所共享者，且 不會存在於其右側的生物中。	圖 15.5 脊椎動物的支序圖 分支節點之間的衍生特徵是在每個 特徵右側的所有生物所共享者，且 不會存在於其左側的生物中。
300	測試你的了解 10	10. 一般認為真核細胞中的粒線體 和葉綠體是來自 a. 內膜系統的發育 c. 突變 b. 原生生物 d. 細菌的內共生	解答：d
333	圖 17.11		
366	測試你的了解 1	1. 下列何者不是真菌的特徵？ a. 細胞壁由幾丁質構成 b. 核有絲分裂 c. 可進行光合作用的能力 d. 絲狀的構造	解答：c

頁碼	位置	原文	修正
366	測試你的了解 10	10. 除了少數例外，地衣中的真菌屬於 a. 接合菌 c. 子囊菌 b. 擔子菌 d. 球囊菌	解答：c
429	圖 21.9		
423	圖 21.2	<p>黑猩猩</p> <ul style="list-style-type: none"> ■ 頭髓骨接在後方 ■ 脊柱微彎 ■ 手臂較雙腳長，且用於行走 ■ 髖骨長而窄 ■ 股骨夾角向外 	<p>黑猩猩</p> <ul style="list-style-type: none"> ■ 頭髓骨接在後方 ■ 脊柱微彎 ■ 手臂較雙腳長，且用於行走 ■ 髖骨長而窄 ■ 股骨夾角向外 
592	第二欄 第 8~9 行	有些如馬跟羊一年中雌性動物會有多個短的生殖週期	有些如馬跟羊一年中雌性動物會有多個短暫的生殖週期
641	第一欄 第 13~14 行	就其本質來看，植物體內也是如此進行的	就其本質來看，植物體內也是如此進行的
677	第二欄 第 8 行	倘若出大於死亡大	倘若出生大於死亡
705	第一欄 倒數第 4 行	一旦風輕微減弱	一旦信風輕微減弱
721	第一欄 第 13~14 行	當俄國心理學家帕洛夫 (Ivan Pavlov) 把肉粉 (一種非制約刺激) 放在狗的面前	當俄國心理學家帕洛夫 (Ivan Pavlov) 把肉粉 (一種非制約刺激) 放在狗的面前